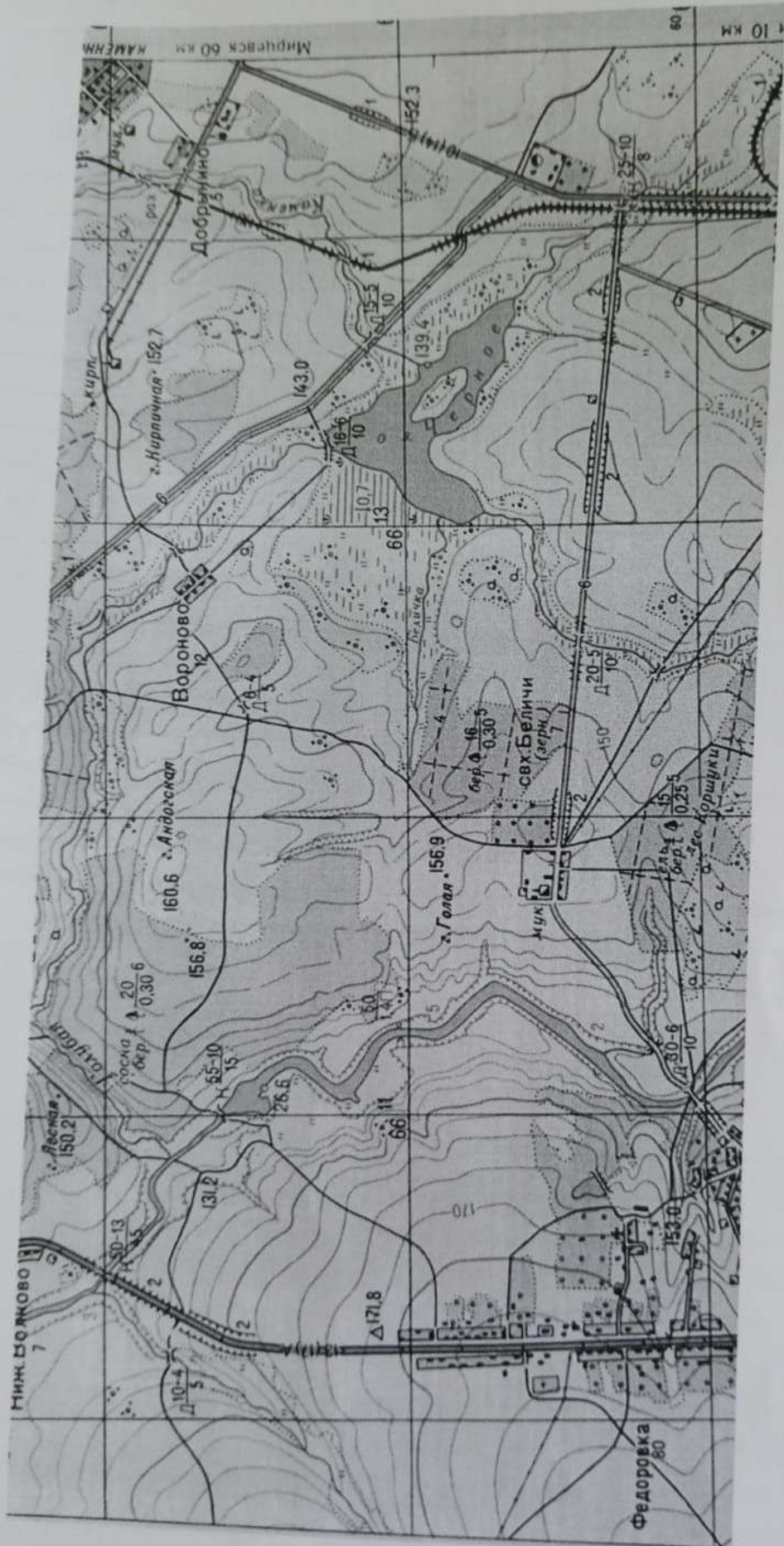


Задание 1

Выполните задания по карте.

Вопросы	Ответы
1. Запишите именованный масштаб карты	1:25000 —
2. Андрей живет в совхозе, где жители занимаются выращиванием зерновых культур, в совхозе есть свой мукомольный завод расположенный на юго – западе совхоза. Напишите название совхоза.	с/х. Блиши + 10
3. Опишите лес, расположенный на севере от совхоза	Это смешанный лес. _____ _____ _____ _____ _____ _____ _____ _____ _____ _____ _____ 10
4. Какова будет высота деревьев над поверхностью снега, если снежный покров достигает 1,5 м? Запишите расчет и ответ	$16 - 1,5 = 14,5 \text{ м}$ Ответ: 14,5 м _____ _____ _____
5. Андрей с друзьями решили покататься зимой на лыжах с горы Голая. Сколько времени потратят ребята, чтобы добраться до горы, если средняя	_____ _____ _____ _____ _____ 50

<p>скорость движения на лыжах 10 км/ч. Ответ запишите в минутах</p>	<hr/> <hr/> <hr/> <hr/> <hr/> <hr/> <hr/>
<p>6. В каком направлении от совхоза расположена гора Голая?</p>	<p>Северо-Западной</p>
<p>7. По какому азимуту необходимо двигаться ребятам, чтобы достичь горы Голая, если они начали движение из точки пересечения фруктового сада и леса?</p>	<p>6</p> <p>10</p>
<p>8. Летом ребята едут купаться на озеро Черное. Предположите маршрут путешествия ребят до данного озера. В своем рассказе используйте название сторон горизонта, для указания направления движения начертите маршрут на карте.</p>	<hr/> <hr/> <hr/> <hr/> <hr/> <hr/> <hr/> <hr/> <hr/> <hr/> <hr/> <hr/> <hr/> <hr/> <hr/> <hr/> <hr/> <hr/> <hr/> <hr/> <hr/> <hr/> <hr/> <hr/>




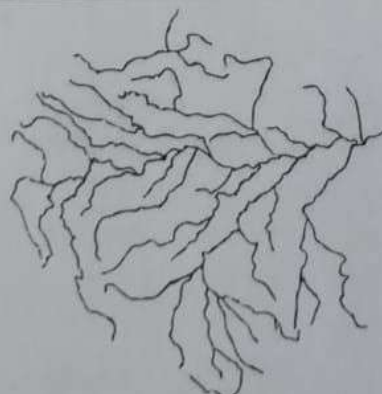
Масштаб 1:25000

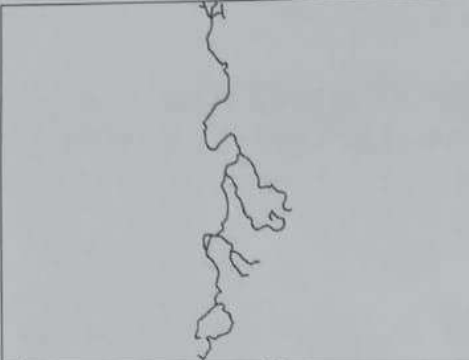
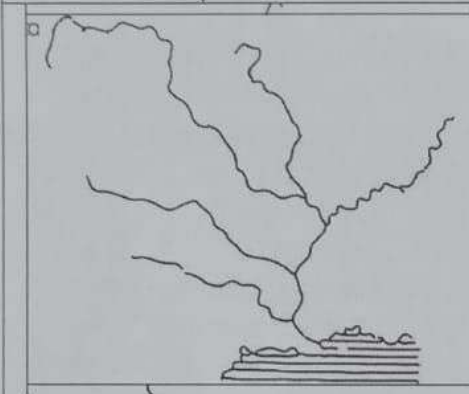
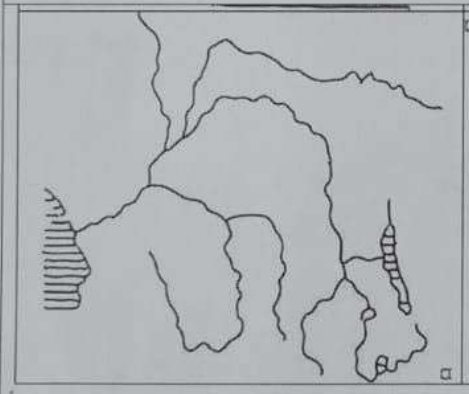
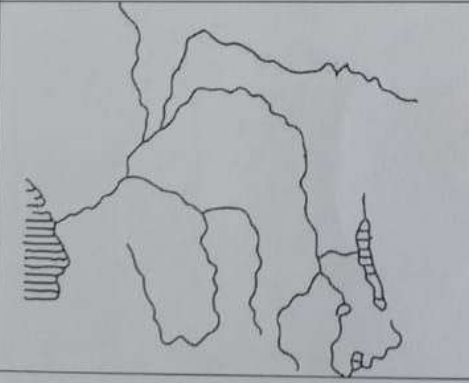
Задание 2

Определите по схемам речных систем главные реки. Напишите название главной реки в поле ответа и подберите высказывание (1–6), которое будет характерно для каждой определённой Вами реки. Ответьте на вопрос в конце задания.

Высказывания о реках:

1. Дважды пересекает экватор, является самой полноводной рекой своего континента.
2. Главная река крупнейшей речной системы третьего по площади континента, несущая свои воды в самый солёный океан планеты.
3. Самая полноводная река нашей страны, один из правых притоков несёт свои воды из самого глубокого озера планеты.
4. Самая длинная река в своей части света, в её бассейне находится столица крупнейшего по площади государства мира.
5. Самая длинная и полноводная река в мире, в ней обитают речные дельфины и одни из самых опасных рыб в мире – пираньи.
6. Долгое время считалась самой длинной рекой мира, в её нижнем течении располагался центр одной из древних цивилизаций

Схема	Название реки	Номер высказывания
	<p style="text-align: center;">Енисей</p> <p style="text-align: center;">+</p>	<p style="text-align: center;">3</p> <p style="text-align: center;">+</p>
	<p style="text-align: center;">Амазонка</p> <p style="text-align: center;">+</p>	<p style="text-align: center;">5</p> <p style="text-align: center;">+</p>

	<p>Нил</p> <p style="text-align: center;">+</p>	<p>6</p> <p style="text-align: center;">+</p>
	<p>Волга</p>	<p>4</p>
	<p>Амазон</p> <p>Миссисипи</p> <p style="text-align: center;">+</p>	<p>2</p> <p style="text-align: center;">+</p>
	<p>Конго</p> <p style="text-align: center;">+</p>	<p>1</p> <p style="text-align: center;">+</p>

Какая из определённых Вами рек не имеет стока в Мировой океан?
 Напишите название реки.

Ответ: Волга

258

15

Задание 3

На международной конференции, корреспондент делал запись об особенностях материков, представленных на рисунке. Но случайно перепутал все факты. Помогите определить о каком материке, какое высказывание. Запишите соответствующую цифру высказывания к каждому матерiku, напротив высказывания напиши ответ. Первоначально определите фрагмент материка.



1	2	3	4
---	---	---	---

№ п/п	Название материка	Ответ (номер высказывания)
1	<i>Африка</i>	<i>2, 8</i>
2	<i>Евразия</i>	<i>1, 6, 4, 7, 5</i>
3	<i>Антарктида</i>	<i>10</i>
4	<i>Южная Америка</i>	<i>3, 9</i>

45

85

Высказывания о материках

№ высказывания	Высказывание о материках	Ответ на высказывание
1.	Материк разделен на две части света. Запишите название частей света	<i>Европа и Азия</i>
2.	На материке проживает самая большая птица мира высота, которой достигает 2,7 метра, вес — 175 килограмм. Запишите название птицы	<i>Африканский страус</i>
3	Самая длинная горная цепь, они тянутся на 8000 километров. Запишите название горной цепи	<i>Анды</i>

4	Самая большая низменность в мире. Запишите название низменности.	Тунгуская низменность	-
5	Единственный вулкан на материке. Запишите название вулкана.	Килиманджаро	-
6	Самое глубокое озеро мира	Байкал	+
7	Самое маленькое, самое мелкое, самое рыбное море. Запишите название моря.	Азовское	+
8	Самое высокое животное, высотой до 5,5 м. Запишите название животного	Жираф	+
9	Самое высокогорное озеро. Запишите название озера	Титимитана	+
10	В 2000 году от материка откололся кусок льда длиной 295 километров и шириной 37 километров. Как называется эта плавающая глыба льда?	Айсберг	+

Тестовый раунд

+ 1. Какой стороне горизонта соответствует азимут 315° ?
 А) юго-восток (Б) северо-запад В) северо-восток Г) юго-запад

- 2. От какого моря в России отсчитывается абсолютная высота?
 А) Баренцева (Б) Черного В) Балтийского Г) Белого

+ 3. Какая точка, расположенной севернее других?
 А) 50° с.ш. 30° з.д. Б) 52° ю.ш. 31° в.д. В) 12° с.ш. 30° з.д.

(Г) 78° с.ш. 30° з.д.

4. На какой высоте будет лететь самолет, если температура воздуха у поверхности Земли $+27^{\circ}\text{C}$, а за бортом самолета -27°C . Запишите решение и ответ

Решение: $27 : 6 = 4,5 \text{ км}$ - поднялся, где 0°
 $4,5 \cdot 7 = 9 \text{ км}$ - высота

Ответ: 9 км

- 5. Горная порода магматического происхождения.

А) Золото (Б) Пирит В) Нефть Г) Гранит

7. Альтернативное название Кемеровской области – Кузбасс. Практически каждый город региона занимается добычей угля. Возникли населённые пункты, впоследствии ставшие городами, во время прокладки железнодорожных путей или около крупных предприятий. Всего в Кузбассе насчитывают 19 городов. Соотнесите название города и описание исторических, географических или экономических особенностей.

Название города	Особенности описания
1-Новокузнецк	А- Самый южный город Кузбасса.
2-Кемерово	Б- Город энергетиков
3-Мариинск	В- В XIX веке на месте этого города стояло Село Монастырское
4-Таштагол	Г- Областной центр. Сначала он назывался Щегловск. Назовите современное название этого города
5- Прокопьевск	Д- Старинный город нашего края, славящийся деревянными резными украшениями домов.
6 - Мыски	Е- Этот город типичная российская глубинка, городок, окруженный морем тайги. История этого города связана с образованием металлургического завода по выплавке серебра и меди, названного в честь святых мучеников Дмитрия и Гурия
7- Гурьевск	Ж- Южная столица Кузбасса. В этом городе расположена «Кузнецкая крепость». Одно из названий города Сталинск.

Запиши свой ответ в таблицу, поставьте соответствующую цифру под буквой описания.

А	Б	В	Г	Д	Е	Ж
4	6	5	2	3	7	1

+

715